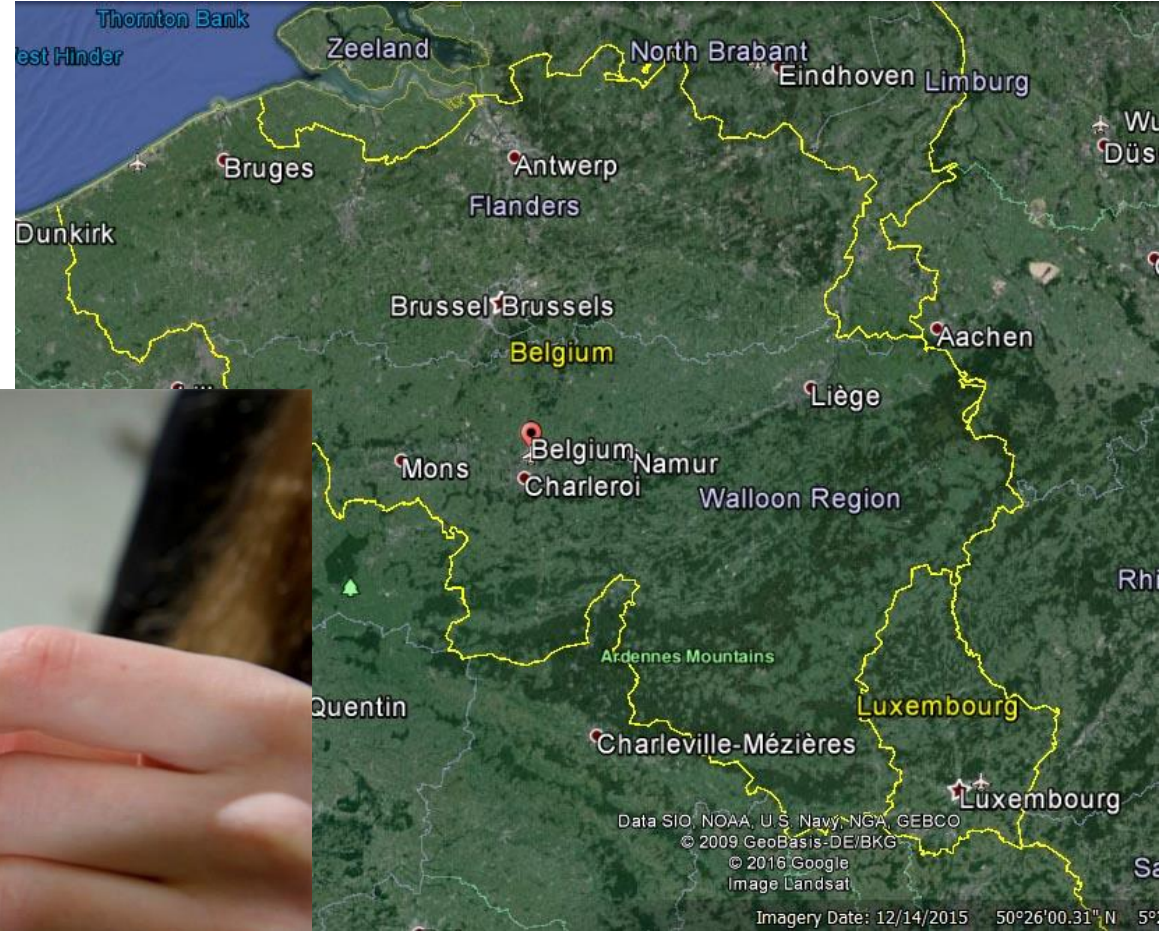



**LES 14**



**QUIZ: TOT WELK LAND BEHOREN  
DEZE FOTO'S?**











**WAT WETEN JULLIE AL OVER EGYPTE?**



**PROBLEEMSTELLING 1: WAT ZIJN DE  
GEOGRAFISCHE KENMERKEN VAN  
EGYPTE?**



?

# OPDRACHTEN

- ❖ Duid Egypte aan op kaart 1
- ❖ Kaart 2
  - ❖ Nijl
  - ❖ Middellandse zee
  - ❖ Arabische woestijn
  - ❖ Libische woestijn
- ❖ Materiaal: handboek + dia 12



Middellandse zee

Libische  
woestijn

Nijl

Arabische  
woestijn

Rode zee

AFRICA  
Area of Detail

**VERBETERING**



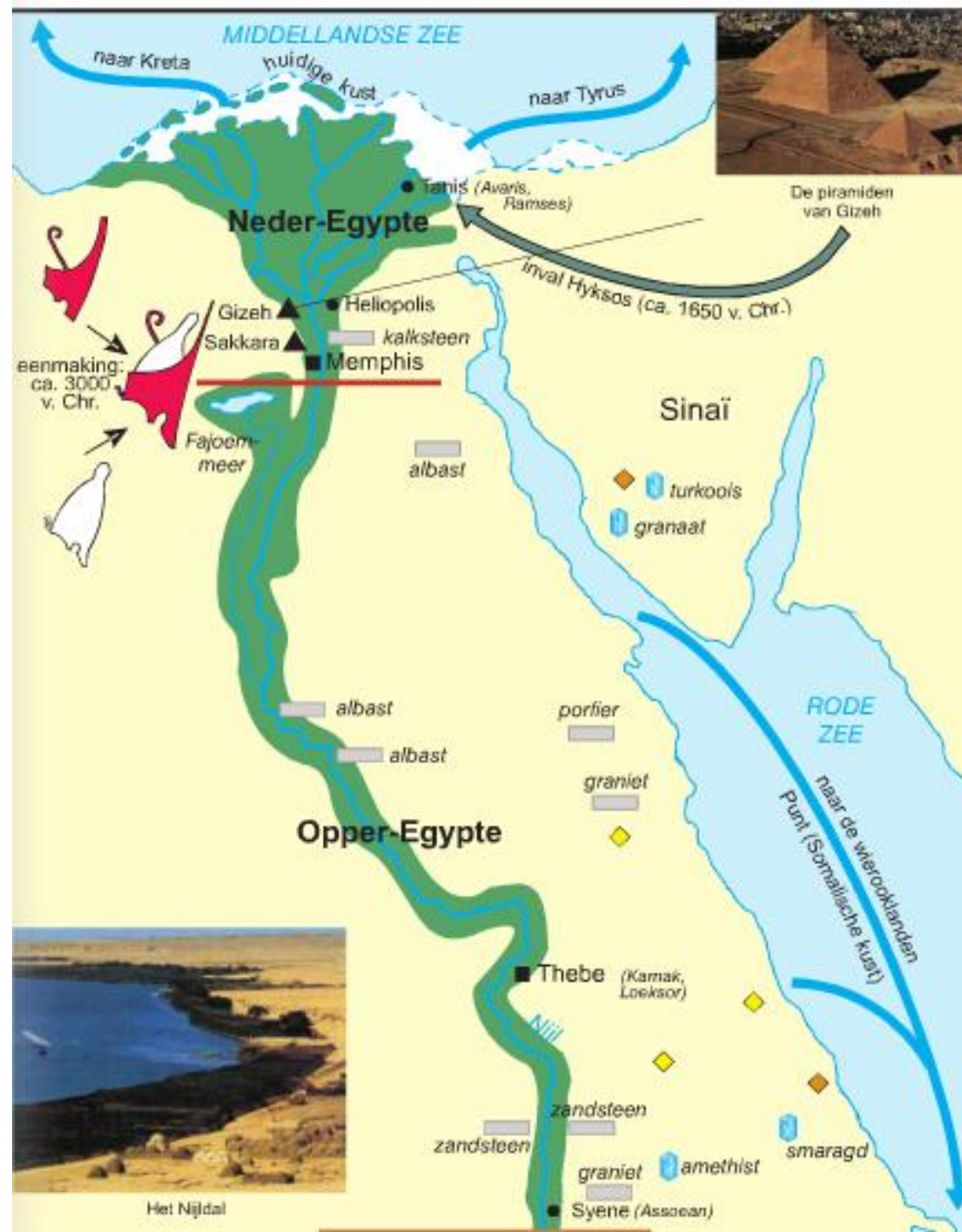
Waar ligt Egypte? (Continent +  
windrichting)

*In het Noordoosten van Afrika.*

Duid op onderstaande kaart Egypte aan in  
een kleur.



**OPPER-EGYPTE EN NEDER-EGYPTE?**





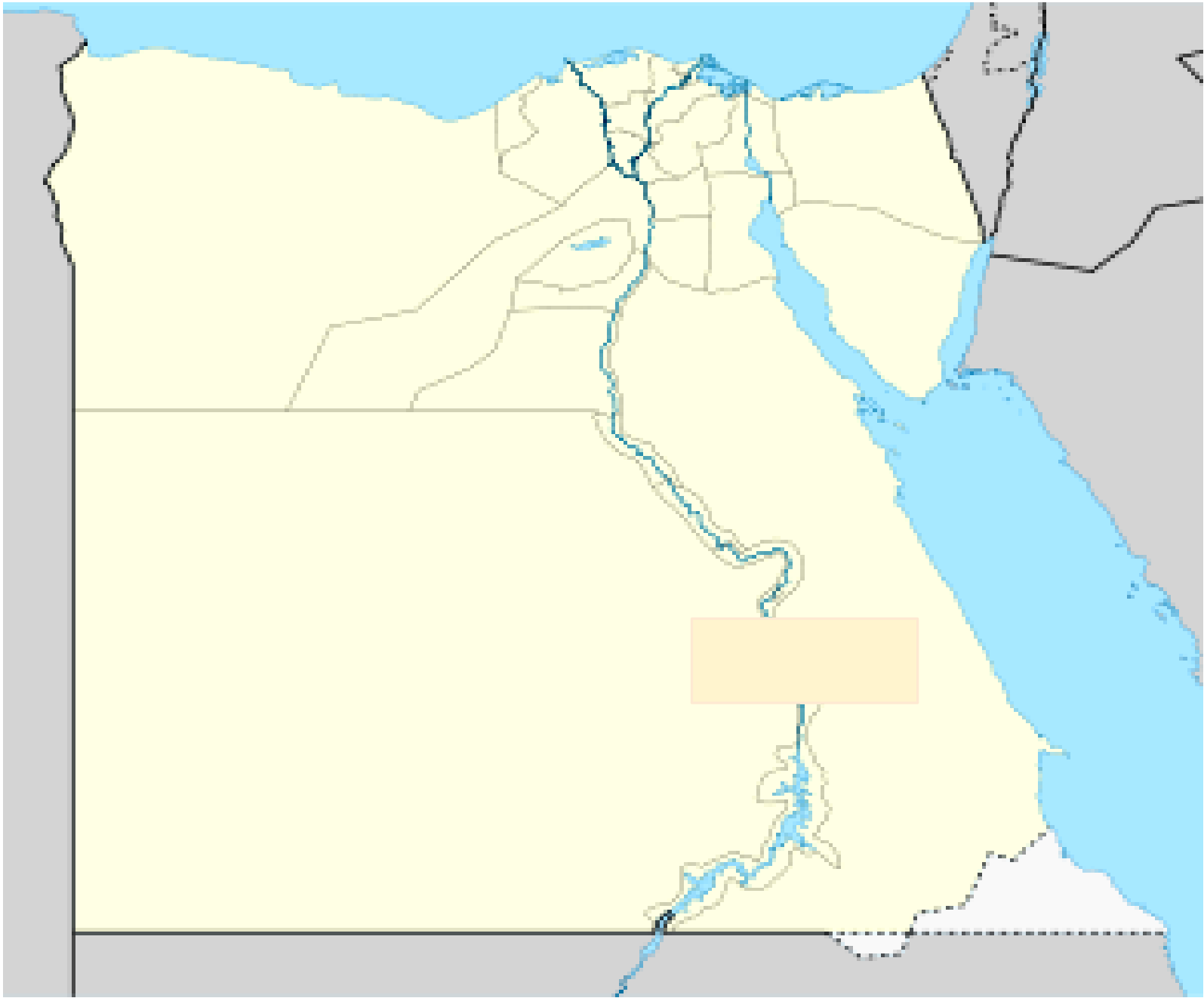
# OPDRACHT

❖ Per 2

❖ De rest van p.1

**VERBETERING**



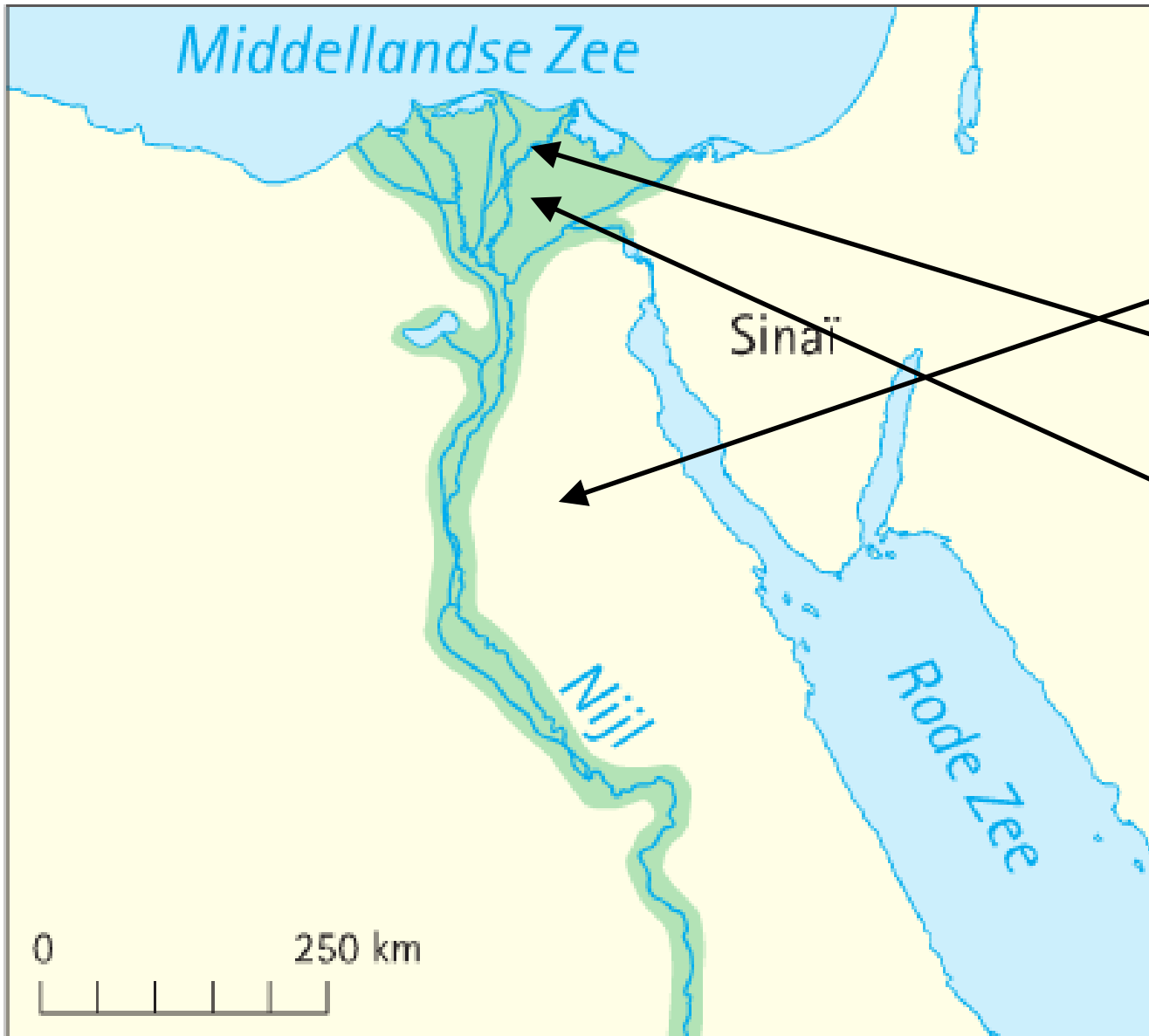


Duid volgende plaatsen aan op de kaart:

- Nijl
- Middellandse zee
- Arabische woestijn
- Libische woestijn
- Eerste cataract (= stroomversnelling)







Middellandse Zee

Sinaï

Nijl

Rode Zee

0 250 km

Duid volgende begrippen aan op de kaart:

- Opper-Egypte
- Neder-Egypte
- Nijldelta

**PROBLEEMSTELLING 2: HOE WERKT  
HET OVERSTROMINGSSYSTEEM?**



Marsa Matruh  
مرسي مطروح

Alexandrië  
الإسكندرية

Port Said  
بور سعيد

JORDANIE

Israël

Cairo  
القاهرة

Ellat

Sharm-el-Sheikh  
شرم الشيخ

Hurghada  
الغردقة

Assioet  
أسيوط

Suhai  
سوهاج

Egypte

Luxor  
الأقصر

Marsa Alam  
مرسي علم

Aswan  
(gouvernement)  
أسوان

Elba

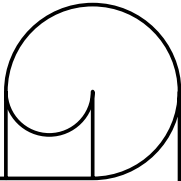





POCKET

# VOORLEZEN

p.51-52





“Het begin van Achet is voor elke Egyptenaar een onvergetelijk schouwspel. Iedereen in Ani’s huishouden was dan ook vroeg opgestaan om er niets van te missen. Ik had een zwaar hoofd en lome leden van de wijn, maar toch voelde ook ik de gespannen verwachting. Een priester offerde aan Amon en Osiris, de god van de Nijl. Hij brandde grote hoeveelheden wierook en zong met schelle stem zijn eindeloze gebeden. Toen zette de stoet zich in beweging in de richting van de stroom.”

...

“Gedurende de nacht was de stroom nog sterker gezwollen. Er ging een stille dreiging uit van de ontzaglijke kracht van het Nijlwater. Geen buitelandse golfjes meer, maar zware, breed aanrollende baren volgden elkaar onverpoosd op. We stonden stil van ontzag. Ik dacht aan het oude gezegde: de Nijl is een geschenk van de goden en Egypte is een geschenk van de Nijl. Toen klotsten de eerste golven over de dam. Eerst zocht het water nog aarzelend zijn weg door geultjes en slootjes, maar een volgende golf waaierde reeds breed uit en overspoelde met machtig geweld de droge grond. Allen lachten en riepen: ‘Achet is gekomen, de goden hebben Achet gezonden!’”

## Oorzaak overstromingen

Regenbuien duizenden kilometers stroomopwaarts





Voordelen:



## Negatieve gevolgen

Vul de opdracht in met volgende woorden te hoog/te laag/juist goed.

Als de overstroming  ..... is, komen huizen, tempels, schuren onder water te staan.

Als de overstroming  ..... is, is er te weinig water of vruchtbaar slib waardoor de oogst kan mislukken.

**SLOT**



# OPDRACHT

Maak per 2 enkele quizvragen, aan het einde van de les geef je deze af.

Bij het begin van de volgende les maken we de quiz.

